

Вариант I

Часть I: задания с кратким ответом

1. Установите соответствие между событиями и годами: к каждой позиции первого столбца подберите соответствующую позицию из второго столбца.

СОБЫТИЕ	ГОД
А) установление регенства Елены Глинской	1) 1565 г.
Б) Переяславская рада	2) 1649 г.
В) учреждение опричнины	3) 1654 г.
Г) издание Соборного уложения	4) 1662 г.
	5) 1533 г.
	6) 1549 г.

Запишите в ответ цифры, расположив их в порядке, соответствующем буквам:

А	Б	В	Г

2. Установите соответствие между событиями и годами: к каждой позиции первого столбца подберите соответствующую позицию из второго столбца.

СОБЫТИЯ	ГОДЫ
А) Ям – Запольский мир	1) 1570 г.
Б) присоединение Астраханского ханства	2) 1582 г.
В) Опричный террор в Новгороде	3) 1552 г.
Г) Плюсское перемирие со Швецией	4) 1584 г.
	5) 1583 г.
	6) 1556 г.

Запишите в ответ цифры, расположив их в порядке, соответствующем буквам:

А	Б	В	Г

3. Установите соответствие между событиями и годами: к каждой позиции первого столбца подберите соответствующую позицию из второго столбца.

СОБЫТИЯ	ГОД
А) установление пятилетнего срока розыска беглых крестьян	1) 1598 г.
Б) восстание под предводительством Хлопка	2) 1603 г.
В) Начало восстания И. Болотникова	3) 1581 г.
Г) прекращение династии Рюриковичей	4) 1597 г.
	5) 1610 г.
	6) 1606 г.

А	Б	В	Г

4. Расположите в хронологической последовательности исторические события. Запишите цифры, которыми обозначены исторические события, в правильной последовательности.

1. Медный бунт.
2. Битва при Молодях.
3. Присоединение Казанского ханства к Московскому государству.

5. Расположите в хронологической последовательности исторические события. Запишите цифры, которыми обозначены исторические события, в правильной последовательности в таблицу.

1. Окончание Смоленской войны.
2. Начало царствования Федора Иоанновича.
3. Учреждение патриаршества в России.

6. Расположите в хронологической последовательности исторические события. Запишите цифры, которыми обозначены исторические события, в правильной последовательности.

1. Установление бессрочного сыска беглых крестьян в России.
2. Избрание на царство Бориса Годунова.
3. Создание стрелецких полков в России.

7. Установите соответствие между историческими лицами и их современниками, при которых происходила их основная общественная, профессиональная или политическая деятельность.

ИСТОРИЧЕСКАЯ ЛИЧНОСТЬ

- А) Иван Грозный
- Б) П. Ляпунов
- В) Михаил Федорович
- Г) Лжедмитрий I

СОВРЕМЕННОКИ

- 1) М.Б. Шеин
- 2) Юрий Мнишек
- 3) Г. Г. Аллен
- 4) Василий Шуйский
- 5) Митрополит Макарий

Запишите в ответ цифры, расположив их в порядке, соответствующем буквам:

А	Б	В	Г

8. Установите соответствие между путешественниками и их открытиями, связанными с их деятельностью.

ПУТЕШЕСТВЕННИКИ

- А) С.И. Дежнев
- Б) В. В. Атласов
- В) В.Д. Поярков
- Г) Е. П. Хабаров

ОТКРЫТИЯ

- 1) Открыл пролив между Азией и Америкой
- 2) Совершил экспедицию на Камчатку
- 3) Составил карту земель, расположенных вдоль Амура
- 4) Исследовал Аляску
- 5) Провел экспедицию из Якутска по рекам Лене, Алдану, Амуру до Охотского моря

Запишите в ответ цифры, расположив их в порядке, соответствующем буквам:

А	Б	В	Г

9. Установите соответствие между событиями (явлениями, процессами) и участниками этих событий (явлений, процессов): к каждой позиции первого столбца подберите соответствующую позицию из второго столбца.

СОБЫТИЕ

- А) строительство Покровского собора в Москве
- Б) начало церковного раскола
- В) Взятие Москвы Вторым народным ополчением
- Г) Осада Пскова

УЧАСТНИК

- 1) митрополит Макарий
- 2) Д. И. Пожарский
- 3) патриарх Никон
- 4) Иван IV Грозный
- 5) Стефан Баторий

Запишите в таблицу выбранные цифры под соответствующими буквами:

А	Б	В	Г

10. Установите соответствие между событиями (явлениями, процессами) и участниками этих событий (явлений, процессов): к каждой позиции первого столбца подберите соответствующую позицию из второго столбца.

Запишите в таблицу выбранные цифры под соответствующими буквами:

А	Б	В	Г

ПРОЦЕССЫ/ЯВЛЕНИЯ

- А) спасение жизни царя М. Романова
 Б) Крымские походы
 В) Смоленская война
 Г) участие в Избранной раде

УЧАСТНИКИ

- 1) А. Адашев
 2) Митрополит Филипп II
 3) митрополит Гермоген
 4) Владислав IV
 5) И. Сусанин
 6) В. Голицын

11. Прочтите отрывок из исторического источника.

«После того как Иван умертвил или потерял своего сына, он стал предаваться жестокостям ещё больше, чем прежде, и его тирания была столь ужасна, что никому из людей ещё не довелось слышать; говорят, он впал в отчаяние после смерти сына своего Ивана, так что, казалось, им руководили сами фурии. Когда он надевал красное — он проливал кровь, чёрное — тогда бедствие и горе преследовали всех: бросали в воду, душили и грабили людей; а когда он был в белом — повсюду веселились, но не так, как подобает честным христианам.

Говорят, что царь вознамерился опустошить всю страну и истребить свой народ, так как знал, что ему осталось недолго жить, и полагал, что все будут радоваться его смерти, хотя ни на ком не мог этого заметить; однако он умер ранее, чем предполагал; день ото дня становясь всё слабее и слабее, он впал в тяжкую болезнь, хотя опасности ещё не было заметно; и, говорят, один из вельмож, Богдан Вельский, бывший у него в милости, подал ему прописанное доктором Иоганом Эйлофом питьё, бросив в него яд в то время, когда подносил царю, отчего он вскорости умер; так ли это было, известно одному Богу, верно только то, что вскоре царь умер».

Используя отрывок и знания по истории, выберите в приведённом списке верные суждения. Запишите в ответ цифры, под которыми они указаны.

1. Автор считает, что в период правления царя, описанный в данном отрывке, его жестокость проявилась сильнее, чем ранее.
2. Вельможа, упомянутый в данном отрывке, входил в состав Избранной рады.
3. Сын царя, о котором пишет автор, являлся единственным его наследником.
4. События, о которых говорится в данном отрывке, произошли в 1580-х гг.
5. Версия о причине смерти царя, изложенная в отрывке, подтверждена современной наукой и считается общепринятой.
6. В период правления царя, о котором идёт речь, территория России расширилась в восточном направлении.

Ответ: _____

12. Прочтите отрывок из документа:

«...Мы бояре... приговорили... на том... чтоб король Жигимонт пожаловал, дал на Владимирское и Московское и все великие государства российского царства сына своего... королевича.
 А будучи государю королевичу на российском государстве, церкви божия... чтити и украшати во всем по прежнему обычаю и всем православным христианам быть в православной христианской вере греческого закона по-прежнему, и римские веры и иных разных вер костёлов и молебных храмов в Московском государстве не ставити...
 Боярам, и окольным, и дворянам, и дьякам думным и по городам воеводам и всяким чинам бытии по-прежнему как повелось в Московском государстве при прежних великих государях... На Москве суду бытии по прежнему обычаю и по Судебнику Российского государства, а будет похотят в чём пополнити для укрепления судов, и государю на то поволоти с думою бояр и всей земли, чтоб было всё праведно».

Используя отрывок и знания по истории, выберите в приведённом списке верные суждения. Запишите в ответ цифры, под которыми они указаны.

1. Данный документ был составлен в период Смутного времени.
2. Представлен фрагмент Крестоцеловальной записи.
3. Документ составило боярское правительство Василия Шуйского.
4. Упоминаемый в отрывке королевич — Лжедмитрий I.
5. Условием приглашения королевича на русский престол было принятие королевичем православия.
6. Согласно документу, в случае воцарения королевича бояре сохраняют все свои привилегии.

. Ответ: _____

13. Прочтите отрывок из летописи.

«С медными деньгами ежедневно было хуже и хуже. В начале сего года 5 или 6 шли к одному серебром, а когда я приехал в страну — всего по 3. <...>

Этой зимой боярин Борис Иванович Морозов умер бездетным, оставив царю огромное состояние и много денег. <...>

Рано утром, когда я обучал полк на поле у Новоспасского монастыря, к нам явился полковник Крофорд, сообщил, что в городе великое смятение, и дал приказ выступить к Таганским воротам. Я осведомился, где [царь], и, узнав, что он в Коломенском, советовал идти туда. <...>

Мятежники толпою вышли из Серпуховских ворот. Их было около 4 или 5 тысяч, без оружия, лишь у некоторых имелись дубины и палки. Они притязали на возмещение [убытков] за медные деньги, соль и многое другое.

С сею целью в разных местах города были расклеены листы, а один стряпчий... читал лист, содержащий их жалобы, имена некоторых особ, коих они мнили виновными в злоупотреблениях, и призыв ко всем идти к царю и добиваться возмещения, а также голов дурных советников».

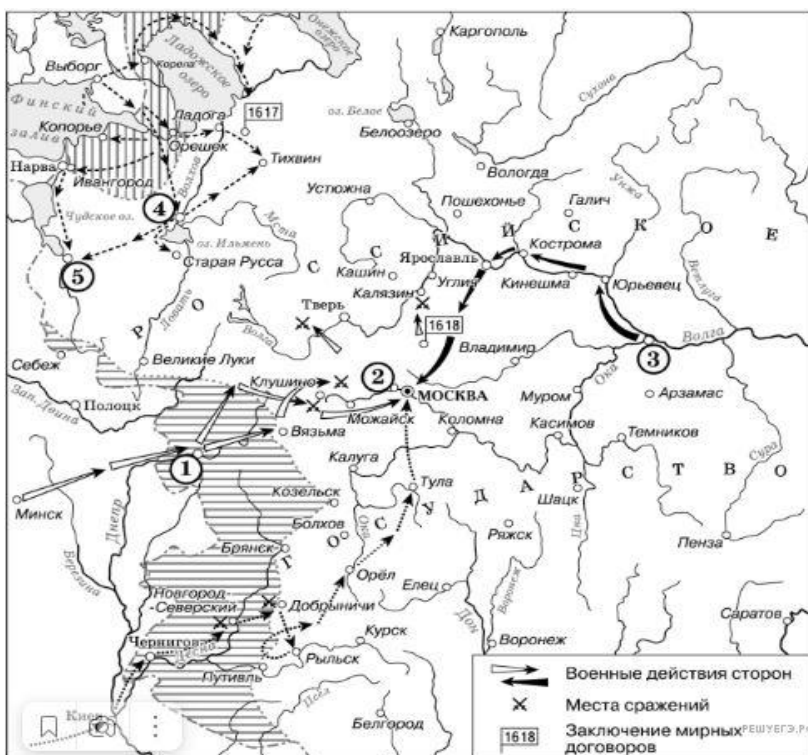
Используя отрывок и знания по истории, выберите в приведённом списке верные суждения. Запишите в таблицу цифры, под которыми они указаны.

1. Описываемые в отрывке события получили в истории название «Медный бунт».
2. Упомянутый в отрывке царь — Михаил Фёдорович.
3. Автор записок указывает на то, что восставшие были хорошо вооружены, в том числе огнестрельным оружием.
4. Автор записок указывает, что одним из намерений восставших было наказание за сложившееся положение приближенных царя.
5. В царствование, в которое происходили описываемые в отрывке события, в России произошёл церковный раскол.
6. Царь, о котором говорится в отрывке, был первым представителем своей династии на престоле.

14. Какие суждения, относящиеся к событиям, обозначенным на схеме, являются верными? Выберите несколько суждений из шести предложенных. Запишите в таблицу цифры, под которыми они указаны..

1. Участниками событий, изображённых на схеме, были К. Булавин и протопоп Аввакум.
2. Староста посада обратился с призывом к сбору средств на борьбу с интервентами в городе, обозначенном на схеме цифрой 4.
3. Следствием событий, изображённых на схеме, стала утрата Россией заштрихованных на схеме территорий.
4. Одной из причин событий, изображённых на схеме, стало пресечение царствующей династии Рюриковичей.
5. Поход на Москву, обозначенный на схеме точечными стрелками, возглавлял самозванец, известный как Григорий Отрепьев.
6. Древний русский город, обозначенный на схеме цифрой 1, отбил все попытки интервентов захватить его.

Рассмотрите схему и выполните задание.



15. Укажите точное название населенного пункта зашифрованного на схеме под номером «2»:

Ответ: _____

Часть 2: задания с развернутым ответом

16. Напишите название периода в отечественной истории, к которому относятся описываемые в тексте события. Укажите век, к которому относятся описываемые в тексте события:

Прочитайте фрагмент исторического источника и выполните задание. Используйте в ответах информацию текста, а также знания из курса истории.

Из записок иностранца

«В 6 утра... Димитрий Иоаннович был бесчеловечно умерщвлен и в то же время было перебито, как полагают, 1705 поляков... Петр Федорович Басманов был убит в сенях перед царскими покоями... [Их тела] поволокли... до народной площади... Там они были... около трех дней, до избрания царем начальника заговора...

Некоторое время спустя после по избрании [царя] восстали пять или шесть главных городов в пределах Татарии: мятежники схватили воевод и побили часть войска и гарнизоны; впрочем еще до отъезда моего, в июле месяце, раскаялись и получили из Москвы прощение, оправдавшись тем, что они были обмануты молвою о спасении царевича Димитрия. В то же время в Москве был большой раздор среди знатных, негодовавших на избрание [царя] без их согласия и утверждения; [царь] едва не был низложен. Наконец, все успокоилось, и [царь] был коронован.



После венчания, опять возникли тайные козни против царя, в пользу (как я думаю) князя Федора Ивановича Милославского, представителя самого знатного русского рода, за которого при избрании подавались голоса, и если бы представители страны были собраны, то он был бы избран. Впрочем, он, как говорят, отказался от короны...

[Царь] вновь подвергался опасности во время перенесения в Москву тела истинного Димитрия, умерщвленного, как гласит молва, 17 лет назад; когда царь вместе с патриархом и духовенством вышли навстречу за город. Как говорят, [царя] хотели побить камнями, но бояре усмирили народ прежде, чем собралась большая толпа.

В то же время открылся бунт в княжестве Северском...: 7 или 8 000 человек взяли за оружие, утверждая, что Димитрий жив. Но так как мятежники не имели предводителей, то были разбиты... Избегнувшие поражения удалились в Путивль, один из главных городов Северской области. Говорят, что и этот город покорился и что виновниками восстания были поляки, рассыпанные в пределах России и Подолии: они распустили молву, что Димитрий жив и находится в Польше».

17. Привлекая исторические знания, приведите две причины, по которым москвичи поддержали заговор, об успехе которого говорится в тексте. Приведите одно положение о том, чем закончилось царствование, о начале которого говорится в тексте:

18. Какие из представленных ниже культурных объектов были созданы в XVI веке. Ответ укажите в цифры указанной на картинке.



19. Используя знания по истории России, раскройте смысл понятия «Земский собор». Приведите один исторический факт, конкретизирующий данное понятие применительно к истории России.

20. Используя знания по истории России, раскройте смысл понятия «Семибоярщина». Приведите один исторический факт, конкретизирующий данное понятие применительно к истории России.

Ответы:

1. 5316
2. 2615
3. 4261
4. 321
5. 231
6. 321
7. 5412
8. 1235
9. 4325
10. 5641
11. 146
12. 156
13. 145
14. 345
15. Тушино